

8 10に 3を たすと

1 10と1位数とを足す場面

<p>10 に</p>	<p>3 を たすと</p>	<p>13 になります。</p>
-------------	----------------	------------------

に を たすと になります。



2

えをみて、ぶんをいみましょう。

①

<p>10</p>	<p>10</p>	<p>10</p>
-----------	-----------	-----------

②

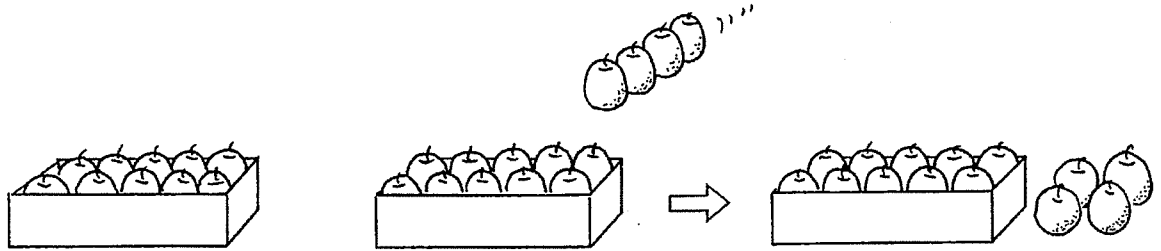
<p>10</p>	<p>10</p>	<p>10</p>
-----------	-----------	-----------

3

10 に

4 を たすと

14 になります。



【しき】 $10 + 4 = 14$

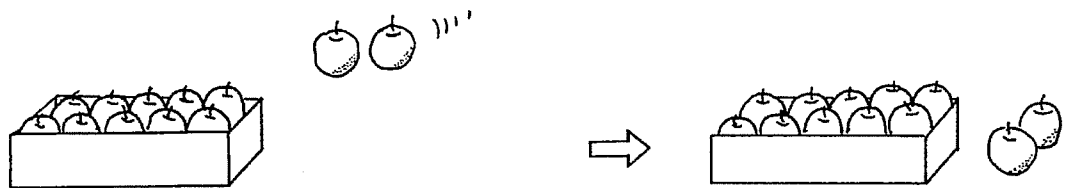
【こたえ】 14こ



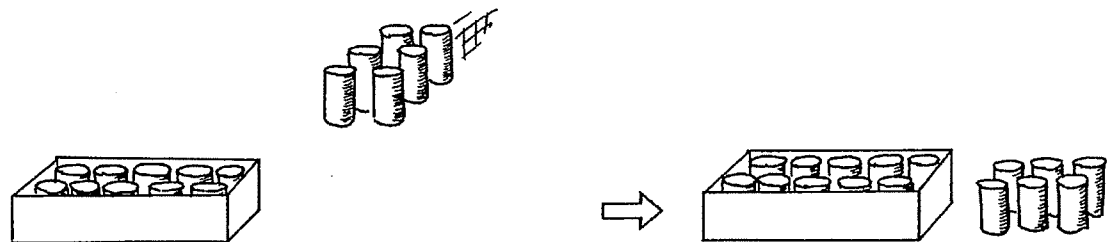
4

ぶんとしきとこたえをかいてよみましょう。

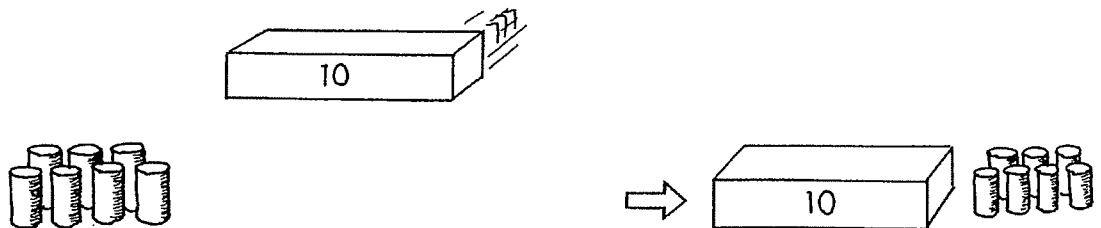
①



②



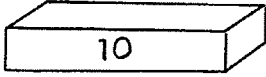
③




5

ぶんとしきとこたえをかいてよみましょう。

①



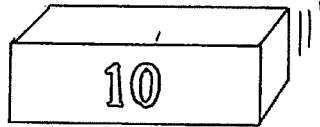
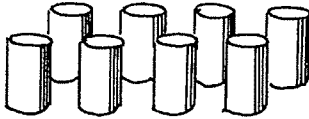
②



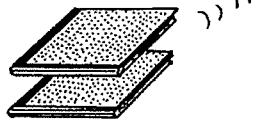

③



④



⑤



⑥

