
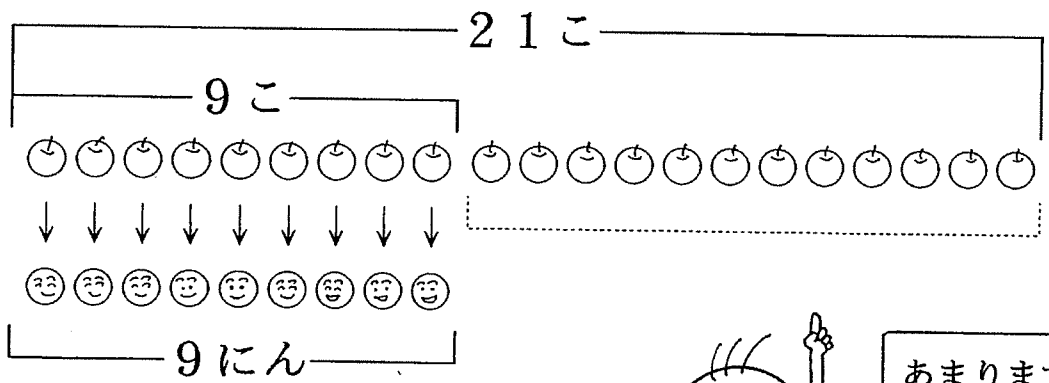



19 いくつ あまりますか。

1

2つの数量の対応から「余り」を求める減法

りんごが 21こ あります。こどもは 9にん います。
1こずつくばると、りんごはなんこ あまりますか。



しき $21 - 9 = 12$

ひっさん

2	1
—	9
1	2

こたえ 12こ



2

(1) えんぴつが 23 ぽん あります。こどもは 16 にん います。1 ぽんずつくばると、えんぴつは なんぽん ありますか。

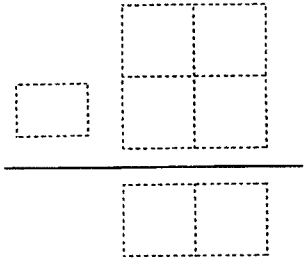
23 ぽん

あまります。

しき

ひっさん

こたえ



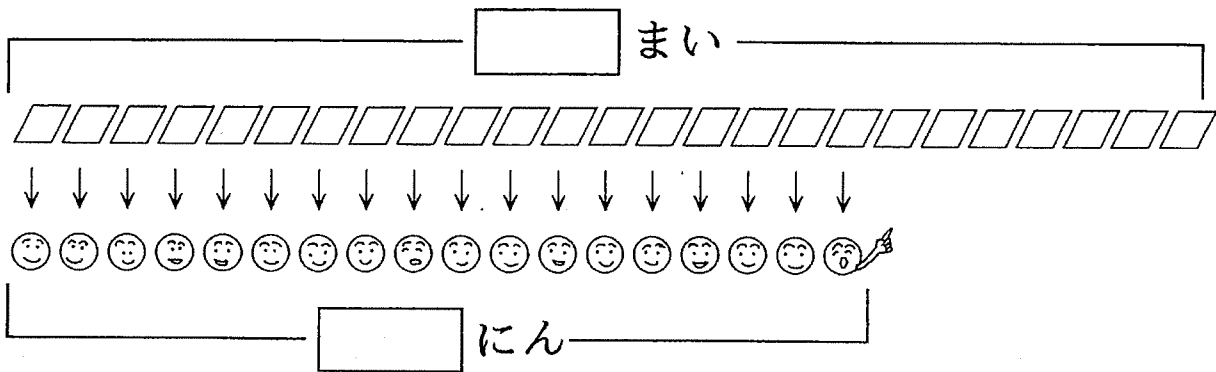
(2) みかんが 25 こ あります。こどもは 17 にん います。1 こずつくばると、みかんは いくつ ありますか。

こ

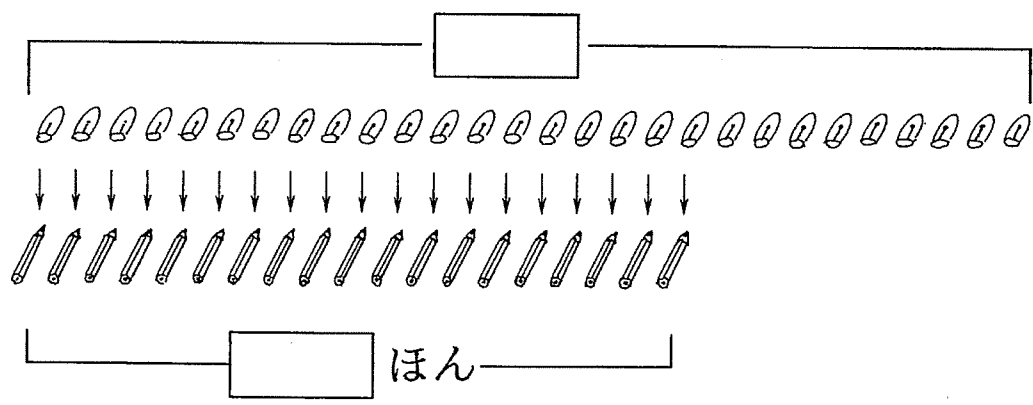
あまります。

3

(1) はがきが 25まいあります。ともだちは 18にん
います。1まいずつはがきをだすと、
はがきはなんまいあまりますか。



(2) キャップが 28 あります。えんぴつは 19ほん
あります。ひとつずつキャップをつけると、
キャップはいくつあまりますか。



(3) いすが 58 あります。こどもが 43にんいます。
ひとりずつすわると、いすはいくつあまりますか。