



指導ポイント&ヒント
15課 たすと ひくと

【内容】(2位数) + (1位数) で繰り上がりのない計算
(2位数) - (1位数) で繰り下がりのない計算
(2位数) - (何十) の計算

【表現】[] に [] をたすと / [] から [] をひくと

【指導ポイント&ヒント】

- ・ 繰り上がり・繰り下がりがないので、図を見ながら計算をすれば難しくないと考えます。
- ・ この課では、計算を言葉で表すことに重点を置いても混乱することは少ないはずです。

Pontos e Dicas de Orientação

Unidade 15 TASU TO / HIKU TO

Se somar / Se tirar

Conteúdo (Dezena) + (Unidade) Cálculos sem reagrupamento
(Dezena) - (Unidade) Cálculos sem reagrupamento
(Dezena) - (Dezena)

Expressão () NI () WO TASU TO / () KARA () WO HIKU TO
Se somar () e () / Se tirar () de ()

Pontos e Dicas

- Acredito que, pelo fato de serem operações sem reagrupamento, se observar os desenhos não será difícil fazer os cálculos.
- Nesta unidade, mesmo que usemos somente palavras para explicar os cálculos, as crianças não ficarão confusas.

Obs.

- O texto em português é uma tradução explicativa, por isso não foi traduzido na íntegra.
- Considerando as diferenças de pronúncia dos idiomas português e japonês, adaptamos a escrita(romaji) de algumas palavras para facilitar a leitura.



15 たすと ひくと

1

たしざんの ぶん

に を たすと になります。

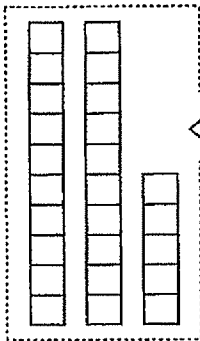


(2位数) + (1位数) で繰り上がりのない計算

2

ぶんとしきを こたえましょう。

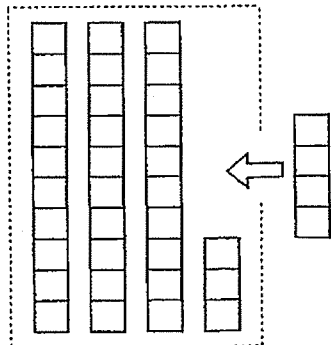
れい



25 に 3 を たすと 28 になります。

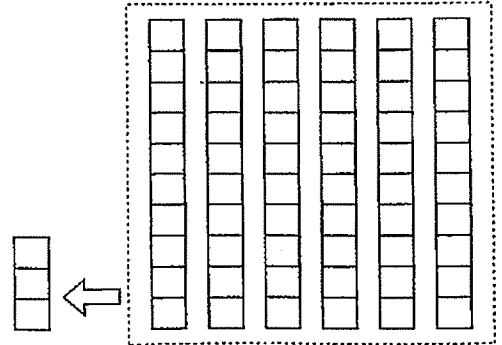
$$25 + 3 = 28$$

①



$$\square + \square = \square$$

②



$$\square + \square = \square$$

3

ひきざんの ぶん

□ から □ を ひくと □ になります。

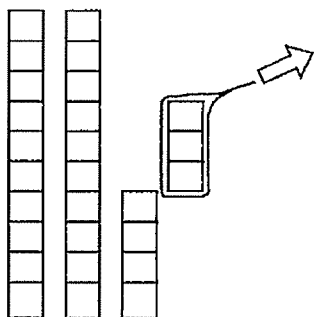


4

(2位数) - (1位数) で繰り下がりのない計算

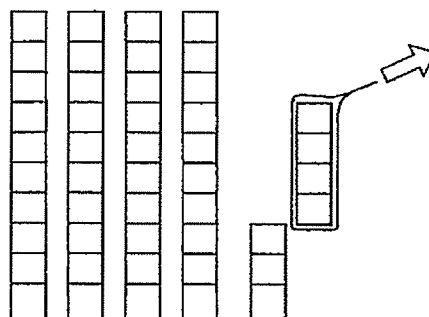
ぶんとしきをこたえましょう。

①



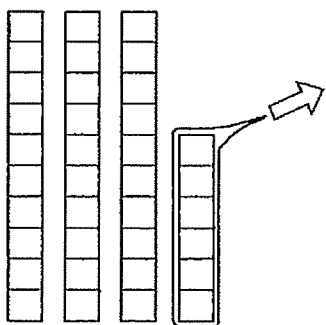
$$\boxed{27} - \boxed{3} = \boxed{24}$$

②



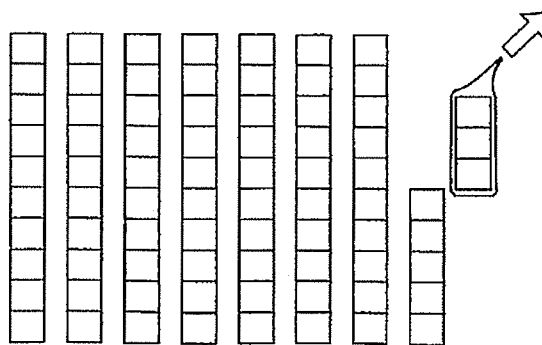
$$\boxed{\quad} - \boxed{\quad} = \boxed{\quad}$$

③



$$\boxed{\quad} - \boxed{\quad} = \boxed{\quad}$$

④

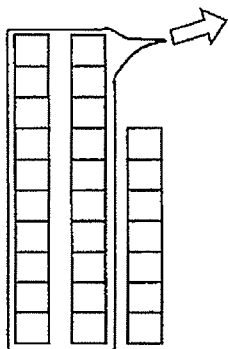


$$\boxed{\quad} - \boxed{\quad} = \boxed{\quad}$$

5

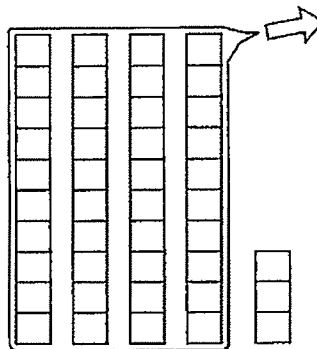
ぶんとしきをこたえましょう。

①



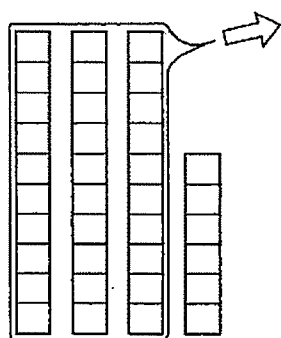
$$\boxed{27} - \boxed{20} = \boxed{7}$$

②



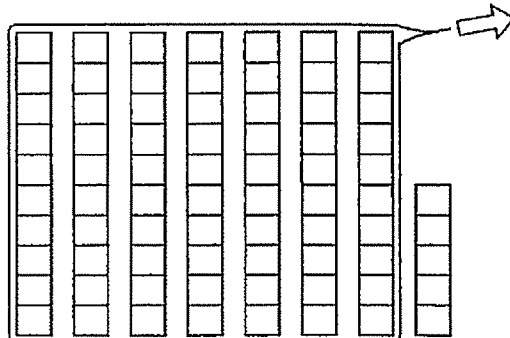
$$\boxed{\quad} - \boxed{\quad} = \boxed{\quad}$$

③



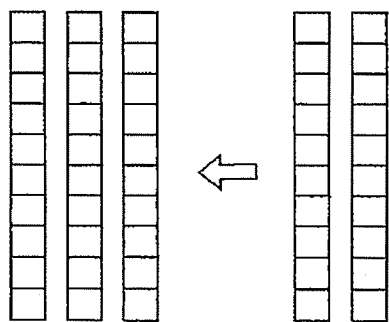
$$\boxed{\quad} - \boxed{\quad} = \boxed{\quad}$$

④



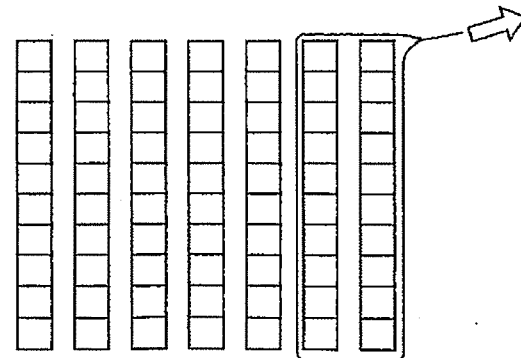
$$\boxed{\quad} - \boxed{\quad} = \boxed{\quad}$$

⑤



$$\boxed{\quad} + \boxed{\quad} = \boxed{\quad}$$

⑥



$$\boxed{\quad} - \boxed{\quad} = \boxed{\quad}$$

6

つぎの ぶんを よんで しきを こたえましょう。

- ① 25に 4を たすと 29になります。
- ② 34に 5を たすと 39になります。
- ③ 28から 4を ひくと 24になります。
- ④ 48から 6を ひくと 42になります。
- ⑤ 5に 40を たすと 45になります。
- ⑥ 78から 70を ひくと 8になります。

7

① 45に 4を たすと いくつになりますか。

しき

② 75から 4を ひくと いくつになりますか。

しき

③ 50に 40を たすと いくつになりますか。

しき