



16課

Unidade 16

ようごとぶん

Vocabulários e frases

ようご	Vocabulários
2けた	Dois algarismos, dois dígitos
たす	Somar, adicionar

ぶん	Frases
こたえが 2けた	A resposta tem dois algarismos (dígitos).
そのあと、こたえを たします。	Depois disso, somamos as respostas.

# 16

## こたえが 2けた



$$(2 \text{ 位数}) \div (1 \text{ 位数}) = (2 \text{ 位数})$$

1

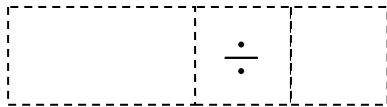
(2位数) ÷ (1位数) で商が (2位数) の割り算場面を図で確認する。

69このクッキーを 3にんで おなじかずつ わけます。

ひとりぶんは なんこに なりますか。



①しきを かきましょう。

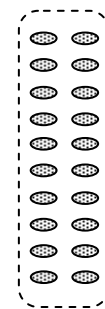
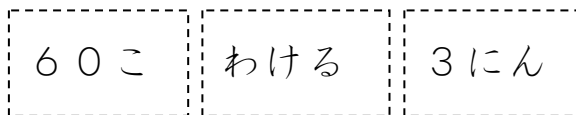
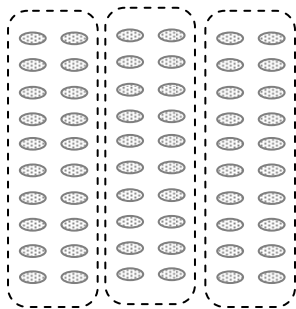


なんこを

なんにんで

②69を 60と 9に わけて かんがえます。

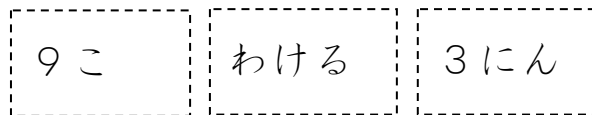
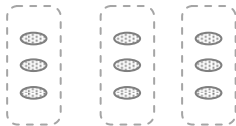
ひとりぶんは



まず  
20こ。



あと  
3こ。



③20こと 3こ。あわせて 23こ。

$$20 + 3 = 23$$

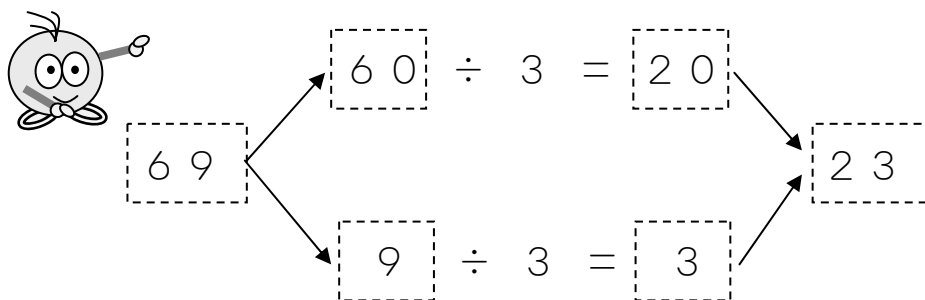
(こたえ) 23こ

2

(2位数) ÷ (1位数) で商が (2位数) の割り算を式でとらえる。

69 ÷ 3 を わりざんの しきで かんがえてみましょう。

69 を 60 と 9 に わけて けいさんします。 そのあと、こたえを たします。

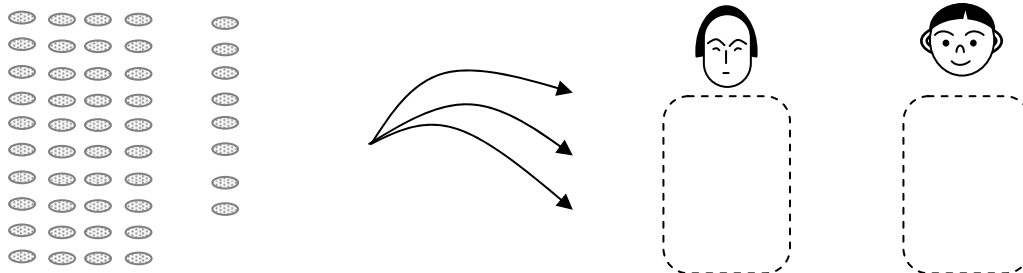


3

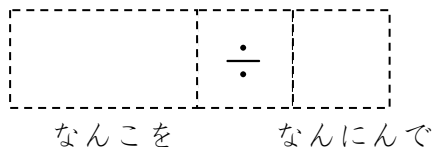
(2位数) ÷ (1位数) で商が (2位数) の割り算を解いてみる。

48 このクッキーを ふたりで おなじかずずつ わけます。

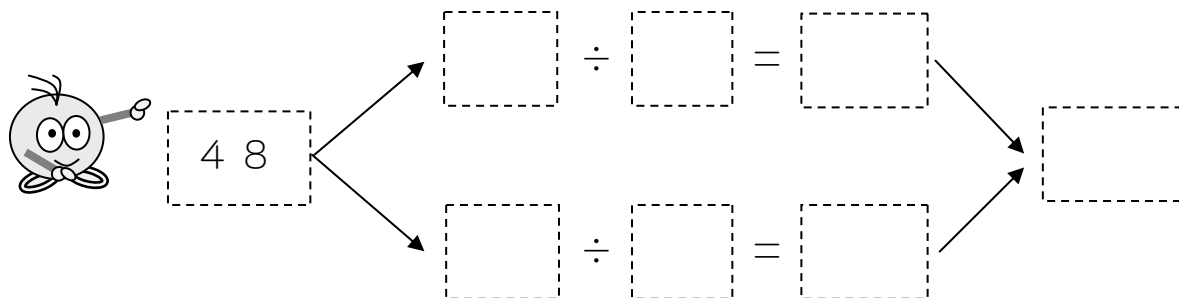
ひとりぶんは なんこに なりますか。



① しきを かきましょう。



② 48 を 40 と 8 に わけて けいさんしましょう。



③ (こたえ)