



34課
ようごとぶん

Lesson 34
Words and phrases

Leksyon 34
Mga Salita

| ようご | Words | Mga salita |
|-----|----------------|------------|
| ず | diagram; chart | diagram |


| ぶん | Phrases | Grupo ng mga salita |
|--------------|--------------------------------------|---|
| このぶんをずにしました。 | We show this statement in a diagram. | Ipapakita natin itong pangungusap sa isang diagram. |

34 たしざん・ひきざんとず ①

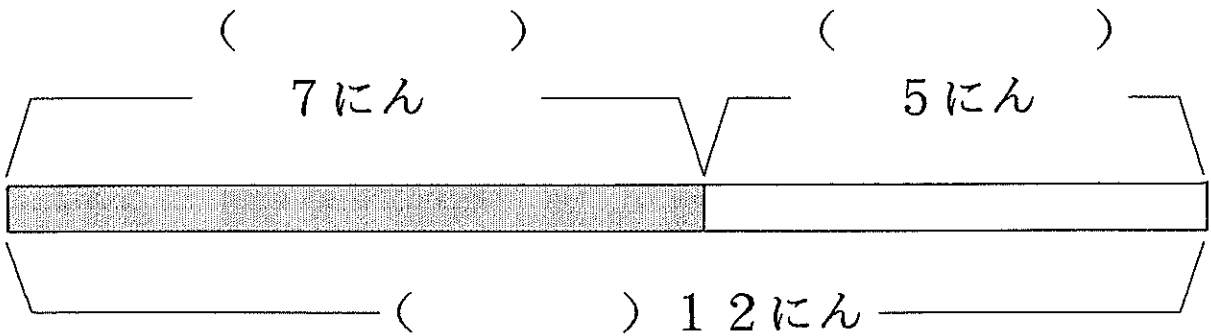
合算場面を表すテープ図の理解

1

おんなのこが 7 にん います。
 おとこのこが 5 にん います。
 ぜんぶで 12 にん います。



このぶんをず に しました。



① () に はいる ことばは どれですか。

おんなのこ


おとこのこ

ぜんぶで

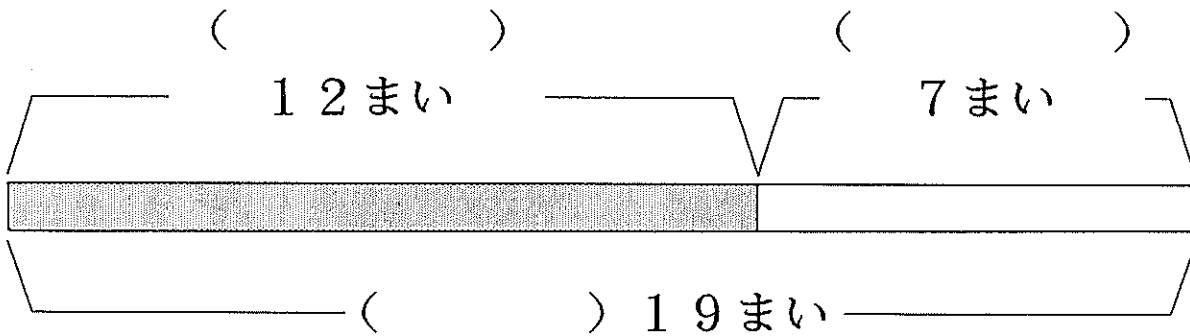
② このぶんを しきに しました。

$$7 + 5 = 12$$

くろいかみが 12まいあります。
 しろいかみが 7まいあります。
 ぜんぶで 19まいあります。



このぶんを ずに しました。



① () にはいる ことばをかきましょう。

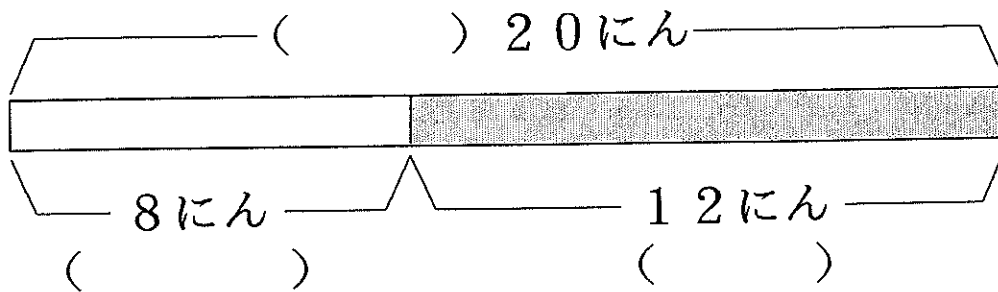
② このぶんを しきに しましょう。

3

はじめ、20にんいました。
 8にんかえたので、
 のこりは12にんになりました。



このぶんをずにしました。



① () にはいることばは どれですか。

はじめ

かえた

のこり

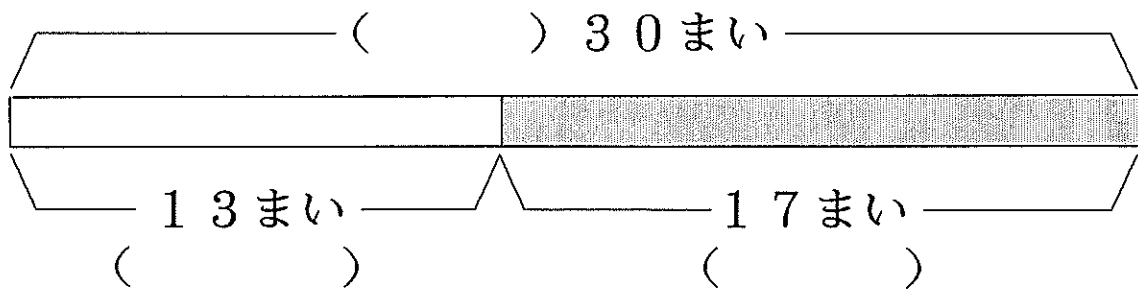
② このぶんをしきにしました。

$$\begin{array}{ccc} \text{はじめ} & \text{かえた} & \text{のこり} \\ \boxed{20} - \boxed{8} = \boxed{12} \end{array}$$

はじめ、かみが 30まいありました。
 13まいつかったので
 のこりは 17まいになりました。



このぶんをずにしました。



① () にはいることばをかきましょう。

② このぶんをしきにしましょう。