



指導ポイント&ヒント

27課 十のくらははいまいくつ

【内容】(3位数) — (2位数) で十の位でも百の位でも繰り下がりのある計算

【表現】[] の位から1繰り下げて

【指導ポイント&ヒント】


- ・ 十の位でも百の位でも繰り下げをしなくてはいけない場面の引き算です。まだまだ難路は続きます。ここでも説明に「お金」を利用して分かりやすくしました。
- ・ 2回繰り下がりがある場合は、1回引き算をしたときに、今、十の位がいくつなのかに注意を向けさせることが大切です。十の位から1繰り下げて一の位の計算をしたあと、十の位が今いくつになっているのかを意識できない子は、次の十の位の引き算の場面で、十の位が1小さくなっていることを忘れて計算をしてしまいます。口をすっぱくして「十の位は今いくつ？」と尋ねるようにしましょう。

27 十のくらはいはいまいくつ

(3位数) - (2位数) で十の位でも百の位でも繰り下がりがある計算

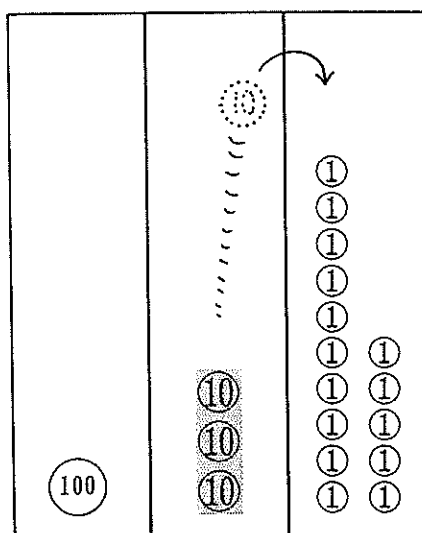
1

145 - 86 の けいさんをしましょう。



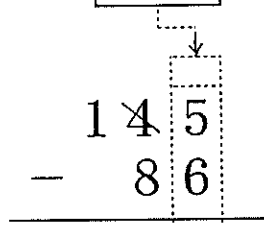
① 一のくらのけいさん

□ から □ はひけないから、

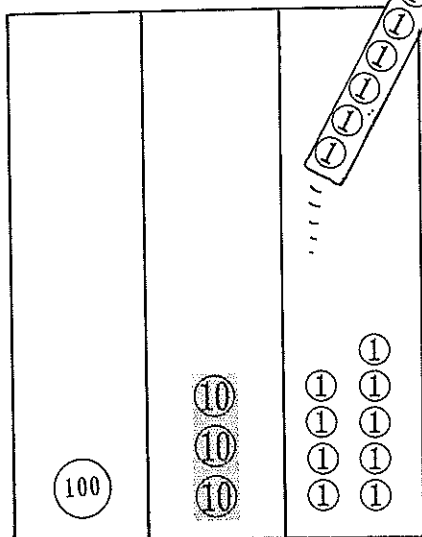


十のくから

1くりさげて □。

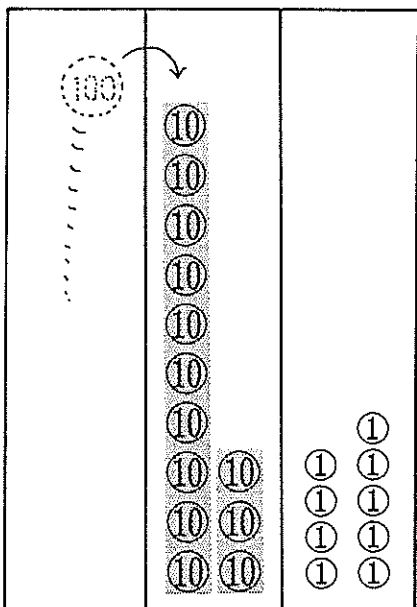

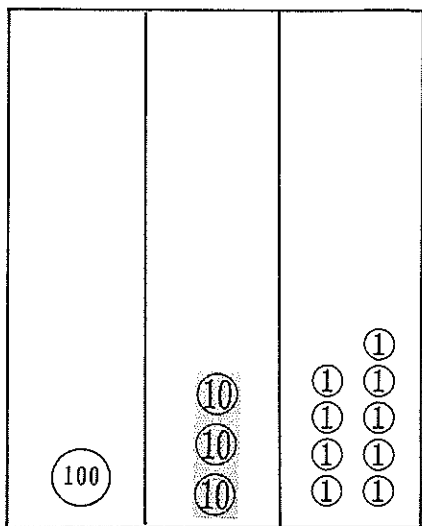


□ - □ = □



② 十のくらいのけいさん

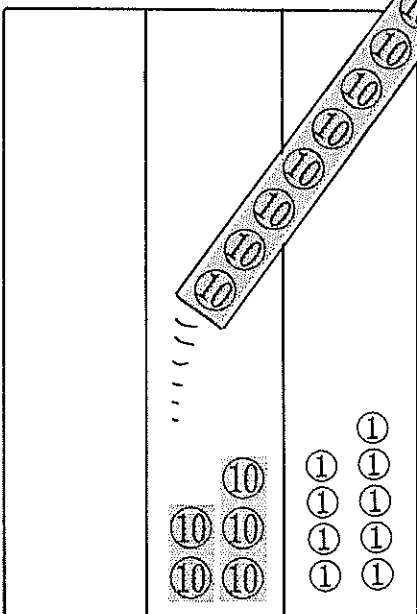
十のくらいはいまいくつですか。



□ から □ はひけないから、
百のくらいから
1くりさげて □。



$$\begin{array}{r} 1 \cancel{4} 5 \\ - 86 \\ \hline 9 \end{array}$$

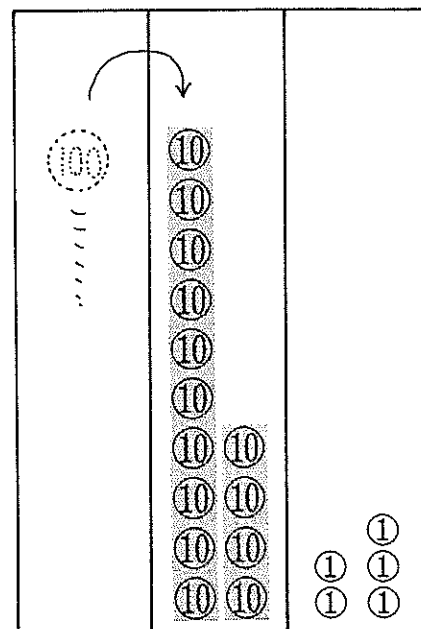
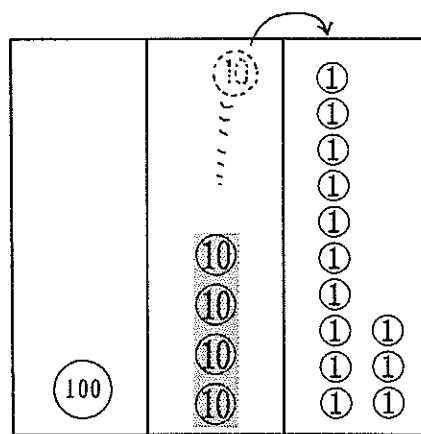
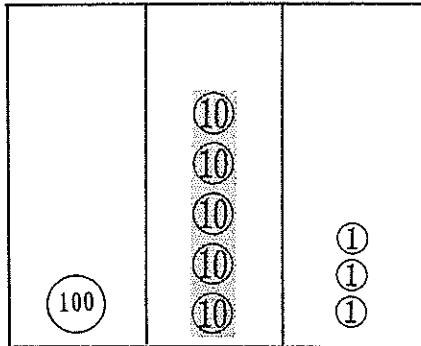


$$\square - \square = \square$$

$$145 - 86 = 59$$

153 - 78 の けいさんをしましょう。

① 一のくらいのけいさん



□ から □ はひけないから、
十のくらいから
1くりさげて □。

$$\begin{array}{r} 153 \\ - 78 \\ \hline \end{array}$$

$$\square - \square = \square$$

② 十のくらいのけいさん

十のくらいは いま □。

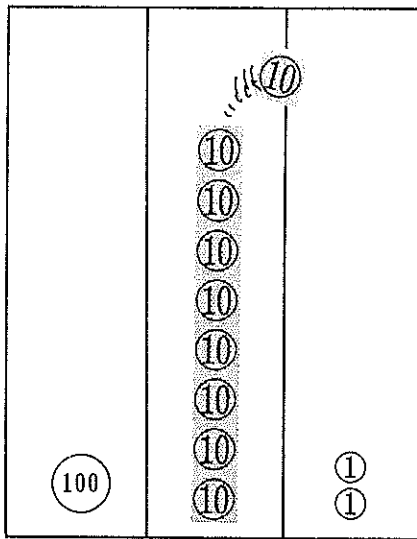
□ から □ はひけないから、
百のくらいから
1くりさげて □。

$$\begin{array}{r} 153 \\ - 78 \\ \hline 5 \end{array}$$

$$\square - \square = \square$$

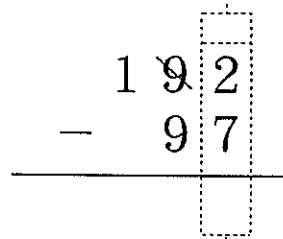
$$153 - 78 = \square$$

192 - 97 の けいさんをしましょう。

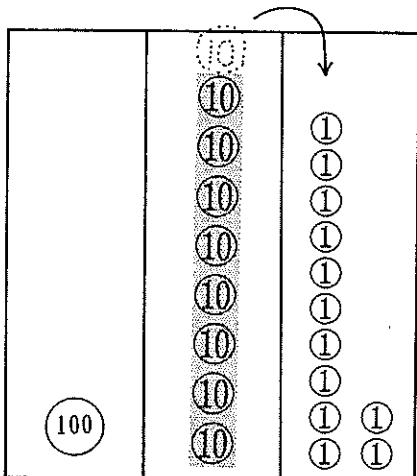


① 一のくらいの けいさん

□ から □ はひけないから、
十のくらいから
1くりさげて □。



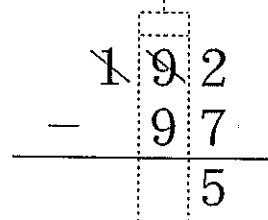
□ - □ = □



② 十のくらいの けいさん

十のくらいは いま □。

□ から □ はひけないから、
百のくらいから
1くりさげて □。



□ - □ = □

192 - 97 = □

