



29課 / Lesson 29 / Leksyon 29

ようごとぶん / Words and phrases / Mga Salita

ようご	Words	Mga salita
ながい	long	mahaba
みじかい	short	maikli
たいじゅう	weight	bigat
いぬ	dog	aso

ぶん	Phrases	Grupo ng mga salita
ながいテープは みじかいテープの 8ばいで 48cmです。	The long tape is 48cm which is 8 times the length of the short tape.	Ang mahabang tape na 48cm ay may 8 beses kahaba ng maikling tape.
おとうさんの たいじゅうは うちの いぬの 8ばいで 64kgです。	My father's weight is 64kg which is 8 times the weight of our dog.	Ang aking ama ay may bigat na 64kg na 8 beses kabigat ng aming aso.

29

いろいろなぶんしょうだい③

包含除 (何倍)

1

「大きい方の数量÷小さい方の数量」で「何倍」かを求める方法を知る。

わたしは おりがみを 36まい もっています。

いもうとは 9まい もっています。




わたしは いもうとの なんばい もっていますか。

36まい

わたし



いもうと



9まい



36の なかに
9が いくつ ありますか。

(しき) $36 \div 9 = \square$

(こたえ) \square ばい

2

「大きい方の数量÷小さい方の数量」で「何倍」かを求める問題を解く。

ぼくは おりがみを 24まい もっています。

おとうとは 8まい もっています。



ぼくは おとうとの なんばい もっていますか。


ぼく

24まい



おとうと

8まい



(しき)

(こたえ)

3

「大きい方の数量÷N倍」で「小さい方の数量」を求める計算を知る。

ながいテープは みじかいテープの 4ばいで 32 cmです。


みじかいテープは なん cmですか。



ながいテープ 32 cm

みじかいテープ cm

□の 4ばいは 32です。
これを かけざんの しきに
してみましょう。



cm

$\times 4 =$

32 cm

みじかいテープの

4ばいは

ながいテープです。

かけざんは、ひっくりかえして
わりざんに かえることができます。
おぼえていますか。

(しき) $32 \div 4 = 8$

(こたえ) 8 cm

4

ながいテープは みじかいテープの 5ばいで 35 cmです。

みじかいテープは なん cmですか。



ながいテープ 35 cm 

みじかいテープ  cm 



□の 5ばいは 35です。
これを かけざんの しきに
してみましょう。

 cm

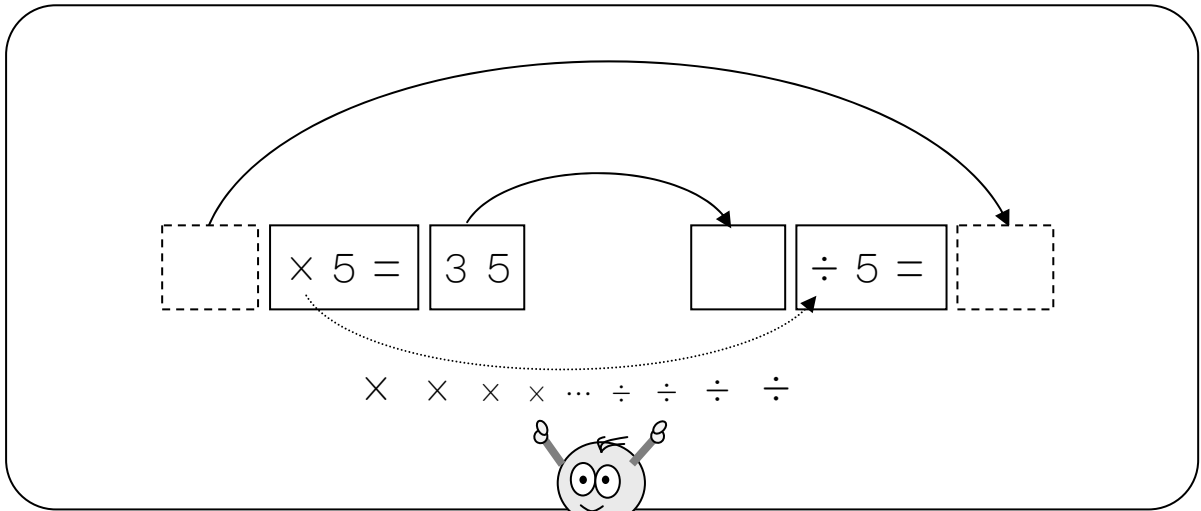
$\times 5 =$

35 cm

みじかいテープの

5ばいは

ながいテープです。



(しき)

(こたえ)

5

ながいテープは みじかいテープの 8ばいで 48 cmです。

みじかいテープは なん cmですか。

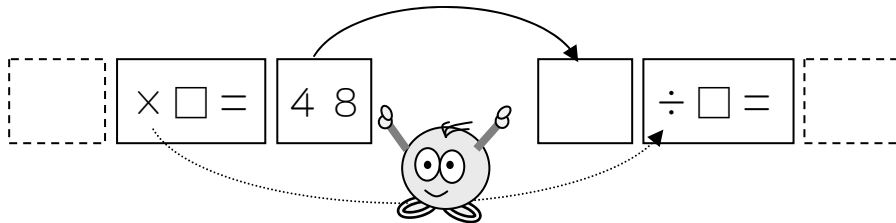


ながいテープ 48 cm

みじかいテープ cm



の 8ばいは 48です。
これを かけざんの しきに
してみましょう。



(しき)

(こたえ)


6

おとうさんの たいじゅうは うちの いぬの 8ばいで

64 kgです。いぬの たいじゅうは なん kgですか。

おとうさん 64 kg

うちの いぬ kg



(しき)

(こたえ)