



指導ポイント&ヒント

第8課 「3はこぶんで いくつに なりますか。」

【指導内容】① 掛け算を適用する場面に慣れる。

【日本語】① 「A個分で」「何個になるか」などの言い方の復習。

【概念図】

① 単位となる量を表す図を見て、それがA個あると全体でいくつになるかを式で表し、九九を用いて答えを出させる。

② 掛け算を適用する「場面」と「言葉」と「式」の結びつきを強固なものにさせる。

【指導例】① 単位となる量を表す図を見て、それがA個あると全体でいくつになるかを式で表し、九九を用いて答えを出させる。

(1) 1箱にりんごが何個入っているかを尋ねる。

(2) 問題文を読ませる。

(3) 「これが3箱ですよ。頭の中に絵を描いて。」と言う。

(4) 「1箱に5個で3箱分だから、どんな式になりますか？」と言って答えを待つ。

*口で答えるのは難しいので、書かせてもよい。

(5) 式が答えられなかったら、 $\square \times \square = \square$ という式をテキストの余白に書いてやる。

(6) それでも答えられない場合は、 $\square \times \square = \square$ の下に、「なんこずつ?」「なんはこ?」と書いてやる。

$$\square \times \square = \square$$

↑ ↑

なんこずつ? なんはこ?

(7) $\square \times \square = \square$ の空欄に数を入れさせる。答えの欄に数を入れられない子には、五の段の九九のページを開けさせ、 5×3 のところを見つけさせる。

(8) ②以降の問題も同様の方法で指導する。

② 掛け算を適用する「場面」と「言葉」と「式」の結びつきを強固なものにさせる。

(1) 問題文「えをみてもんだいとしきとこたえをかきましょう。」を読ませる。

(2) ①を指して、「2個ずつ5皿分ありますね。」と答えを言ってしまう。

(3) 「あっ!先生、答えを言っちゃった。でも、聞いていなかったね。」と言って、「A個ずつB皿分でC個」の言い方を思い出させる。

(4) ①の問題の空欄に「ずつ」と「で」を書き入れさせる。

2こ 5さらぶん りんごはいくつになりますか。

(5) 式と答えを書くように言う。書けなかったら、①の(5)～(7)の方法でサポートする。

(6) ②～⑥の問題も同様の方法で進める。



8課
ようごとぶん

Unidad 8
Palabra y Frase

ようご	Palabra
こども	niño(a)
にん	unidad para contar personas (a partir de tres)
テープ	cinta
ながさ	longitud
たかさ	altura
おりがみ	papel de origami
くばる	repartir / distribuir
いる	necesitar

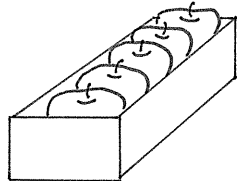
ぶん	Frase
こどもは なんにんになりますか。	¿Cuántos niños hay? (se usa "nin" para contar personas)
4cmの テープが 3つぶんで ながさは なんcmになりますか。	Hay 3 piezas de cinta de 4 cm cada una. ¿Cuántos centímetros serán en suma?
ながさは なんcmになりますか。	¿Cuántos centímetros de longitud tiene?
たかさは なんcmになりますか。	¿Cuántos centímetros de altura tiene?
おりがみを ひとりに 8まいずつ 6にんに くばりました。	Le repartí 8 hojas de papel de origami a cada una de las 6 personas.
みかんは なんこ いらいますか。	¿Cuántas mandarinas necesitas?

8 3はこぶんでいくつになりますか。

乗法の文章題に慣れる

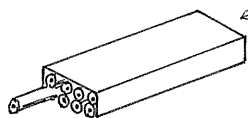
1

①



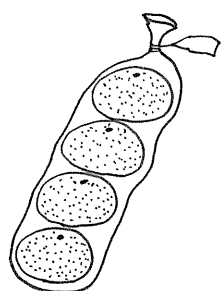
これが3はこぶんで
りんごはいくつになりますか。

②




これが4はこぶんで
えんぴつはなんぼんになりますか。

③



これが5ふくろぶんで
みかんはいくつになりますか。

④

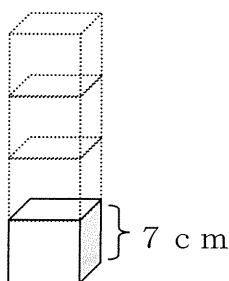


ふたりずつ6くみで
こどもはなんにんになりますか。


- ⑤ 4 cm のテープ 3 つぶんで
ながさはなん cm になりますか。




- ⑥ 7 cm の積みき 4 こぶんで
たかさはなん cm になりますか。



- ⑦ おりがみをひとりに 8 まいずつ 6 にんにくばり
ました。ぜんぶでなんまいくばりましたか。



- ⑧ みかんをひとりに 1 っずつ 9 にんにくばります。
みかんはいくつ いますか。



えをみて もんだいと しきと こたえをかきましょう。

① 2つ 5さら


りんごはいくつになりますか。



しき

こたえ

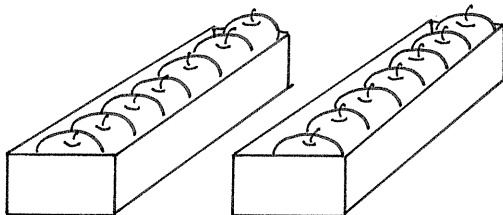
②



しき

こたえ

③



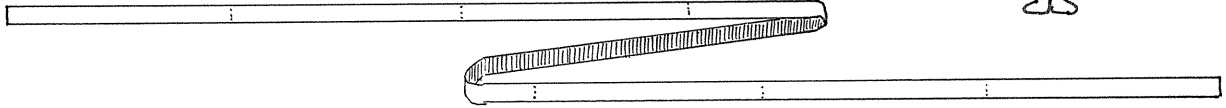
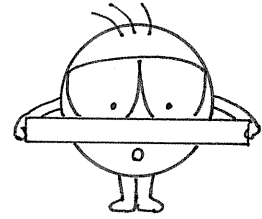
しき

こたえ

④ 3cmのテープ 8つ

--	--	--

ながさはなんcmになりますか。

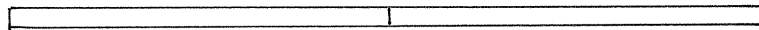



しき

こたえ

⑤ 5cmの

ながさは



しき


こたえ

⑥ みかんをひとりに

1	つ		
---	---	--	--

	に	ん	に
--	---	---	---

くばります。みかんは いくつ いきますか。



しき

こたえ